

梧州市 2018 年初中学业水平考试试题卷

地 理

说明：1. 本试卷为地理考试的试卷，共 5 页（试题卷 4 页，答题卡 1 页），满分共 60 分，考试时间共 60 分钟。

2. 答题前，请将准考证号、姓名、座位号写在答题卡指定位置，答案涂、写在答题卡相应的区域内，在试题卷上答题无效。

一、选择题（本题共有 30 小题，每小题 1 分，共 30 分；在每小题给出的四个选项中，只有一个选项是符合题意的；多选、错选或不选，该小题不得分。）

图 1 是从太空中拍摄的地球照片，读图完成 1~2 题。

1. 在遨游太空之前，人类首次证实地球是球体的途径是
A. 环球航行 B. 凭直觉认识
C. 观察日食 D. 比照月亮的形状

2. 图中 P 点所在的大洲是

A. 亚洲 B. 欧洲 C. 北美洲 D. 南极洲

图 2 是小李在某路口看到的一个路牌，读图完成 3~4 题。

3. 小李目前所在的位置是

A. 惠先路 B. 中山路
C. 平安路 D. 解放路

4. 假如小李要去解放路，应该

A. 往东走 B. 往南走
C. 往西走 D. 往北走

日本地域狭小，资源贫乏，经济发展对外依赖严重，原料、燃料需要进口，产品大量出口；日本人民在与世界广泛的交往当中，逐渐形成了东西方兼容的文化特色，据此回答 5~6 题。

5. 日本进口石油的最大来源地是

A. 东南亚 B. 欧洲西部 C. 非洲中部 D. 中东地区

6. 下列能够体现中日文化交融的例子是

A. 教堂 B. 西餐 C. 茶道 D. 和食

图 3 是梧州市某一天太阳升落的轨迹示意图，读图完成 7~8 题。

7. 这一天应该是“二分二至日”中的

A. 春分日 B. 夏至日 C. 秋分日 D. 冬至日

8. 图中观察者面朝的方位大概是

A. 东方 B. 南方 C. 西方 D. 北方

图 4 是美国本土部分农业带和城市的分布图，读图完成 9~11 题。

9. 图中阴影地区所在的农业带是

A. 玉米带 B. 小麦区 C. 乳畜带 D. 棉花带

10. 影响图中阴影地区农业带分布的首要因素是

A. 光照充足 B. 靠近市场 C. 地形平坦 D. 土壤肥沃




图 1

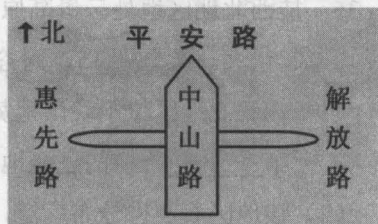


图 2

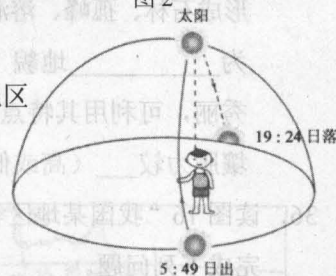


图 3

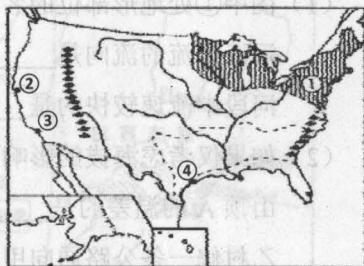


图 4

11. 休斯顿是美国的航天城，它在图中的位置是

- A. ① B. ② C. ③ D. ④

图 5 是菲律宾附近海域地图，读图完成 12~13 题。

12. 图中菲律宾所在的半球位置是

- A. 东半球 北半球 B. 东半球 南半球
C. 西半球 北半球 D. 西半球 南半球

13. 图中 Q 点位于地球五带中的

- A. 热带 B. 北温带 C. 南温带 D. 南寒带

14. 下列位于“腾冲—黑河”一线以西的省级行政区是

- A. 湘 B. 闽 C. 粤 D. 新

15. 我国是世界上遭受自然灾害最为严重的国家之一，其中台风灾害主要分布在

- A. 西南地区 B. 西北内陆地区
C. 东北地区 D. 东南沿海地区

图 6 是我国台湾岛年平均气温分布图，读图完成 16~17 题。

16. 图中高雄的年平均气温可能是

- A. 22℃ B. 23℃ C. 25℃ D. 26℃

17. 影响图中等温线呈环状分布的主要因素是

- A. 纬度位置 B. 海陆位置
C. 地形地势 D. 人类活动

18. 在北京工作的小陈想要网购一些原产自南方地区的水果，他应该选择的是

- A. 荔枝 B. 苹果
C. 雪梨 D. 哈密瓜

19. 在生活中我们要节约资源，保护环境，对垃圾进行分类处理。下列属于不可回收的垃圾是

- A. 塑料 B. 废纸
C. 果皮 D. 金属

图 7 是小王在我国华北某地旅游时拍摄的太阳能路灯照片，据图完成 20~21 题。

20. 为了充分接受太阳光，太阳能电池板的朝向应该是

- A. 朝东 B. 朝南
C. 朝西 D. 朝北

21. 下列太阳能最丰富的地区是

- A. 四川盆地 B. 云贵高原
C. 青藏高原 D. 东北平原

图 8 是我国北方局部地区图，读图完成 22~24 题。

22. 图中 M 所在的地形区是

- A. 东北平原 B. 河套平原
C. 华北平原 D. 长江中下游平原

23. 图中黄土高原的地形特征是

- A. 冰川广布 B. 崎岖不平
C. 辽阔坦荡 D. 千沟万壑

24. 图中①②③④处出现“地上河”现象的是

- A. ① B. ② C. ③ D. ④

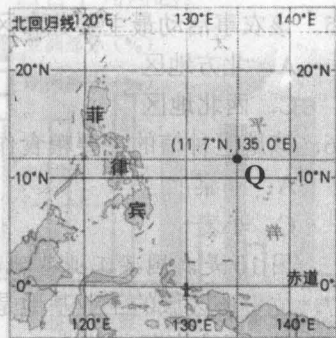


图 5

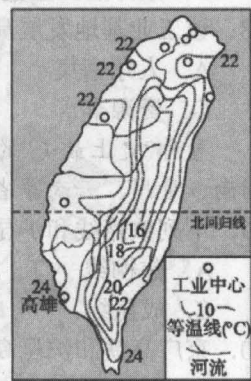


图 6




图 7

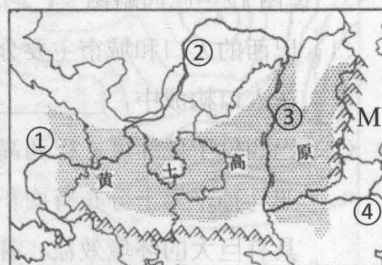


图 8

图9是我国某地的农事活动图,据图完成25~26题。

25. 该农事活动最主要分布区在我国的
- A. 北方地区 B. 南方地区
- C. 西北地区 D. 青藏地区
26. 该地区种植的主要粮食作物是
- A. 高粱 B. 水稻
- C. 小麦 D. 玉米



图9

图10是我国某工业基地的区域图,读图完成27~28题。

27. 位于该区域的工业基地是
- A. 辽中南工业基地 B. 长江三角洲工业基地
- C. 京津唐工业基地 D. 珠江三角洲工业基地
28. 该工业基地发展高新技术产业的主要条件是
- A. 人才密集 B. 海运便利
- C. 资源丰富 D. 靠近市场



图10

号称“史上最美”的沪昆高铁途经上海、浙江、江西、湖南、贵州、云南等省市。读图11完成29~30题。

29. 下列铁路线和沪昆高铁并行同向的是
- A. 焦柳线 B. 浙赣线
- C. 成昆线 D. 京哈线
30. 京广高铁和沪昆高铁都经过的城市是
- A. 长沙 B. 南昌
- C. 武汉 D. 郑州



图11

二、非选择题(本题共有6小题,每小题5分,共30分)

31. 将下列人文景观与其所在城市配对。

- | | |
|----------|-----|
| A. 大雁塔 | ①北京 |
| B. 骑楼城 | ②伦敦 |
| C. 白金汉宫 | ③仰光 |
| D. 布达拉宫 | ④梧州 |
| E. 八达岭长城 | ⑤拉萨 |

32. 读图12“巴西略图”,回答下列问题。

- (1) 巴西的人口和城市主要分布在_____部,在人口构成中,_____种人占的比例最高。
- (2) 巴西位于低纬度,巴西高原是_____气候,亚马孙平原上分布有面积广大的_____,具有巨大的环境效益。甘蔗、柑橘和_____等农产品的产量居世界首位。



图12

33. 读图 13 “俄罗斯的亚洲和欧洲部分相关数据统计图”，回答下列问题。

(1) 根据图中统计数据，欧洲部分占比例较高的是人口、_____和科技力量，俄罗斯历来被认为是_____洲国家。

(2) 俄罗斯亚洲部分的地形以平原、_____和_____为主，其东部河流落差大，因此_____资源蕴藏量丰富。

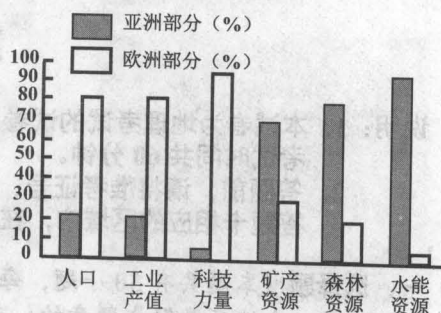


图 13

34. 读图 14 “我国东北地区略图”，回答下列问题。

(1) 辽中南工业基地_____资源种类丰富，濒临海洋，如 A_____海，为其工业发展提供了优越的条件。

(2) 东北平原土壤肥沃，有“_____土地”之称，图中阴影地区是我国重要的农业产区，该地区农作物的熟制是_____，种植的糖料作物是_____。

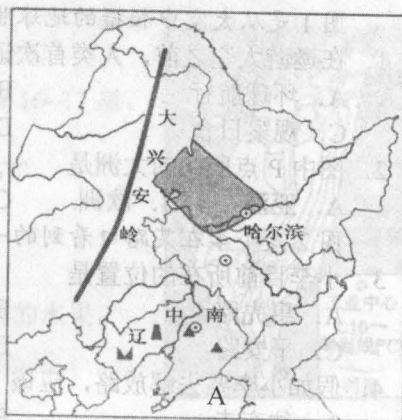


图 14

35. 桂西北地区地处云贵高原东部边缘，地表崎岖起伏大。结合图 15，回答下列问题。

(1) 桂西北地区位于我国地势第_____阶梯和第_____阶梯的过渡地带。

(2) 该地区石灰岩分布广泛，石灰岩易溶于水，形成石林、孤峰、溶洞、地下暗河等，统称为_____地貌（如图 15）。这里风景秀丽，可利用其特点发展_____业，但土壤肥力较_____（高或低），对农业生产不利。



图 15

36. 读图 16 “我国某地区等高线地形图”，完成下列问题。

(1) 图中①处地形部位的名称是_____，河流干流的流向是_____，在②③河段中流速较快的是_____。

(2) 如果仅考虑海拔的影响，甲度假村与山顶 A 的温差约是_____℃。假如从乙村修一条公路通向甲度假村，在 ab 两个方案中较合理的是_____。

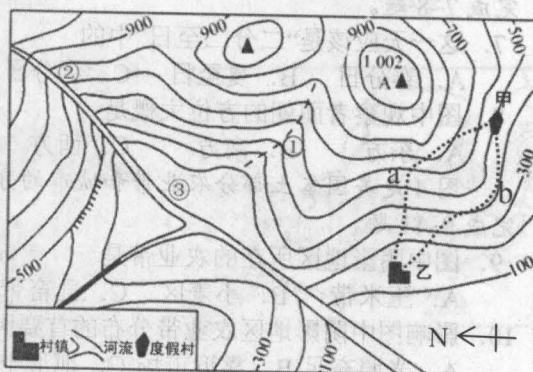


图 16

梧州市 2018 年初中学业水平考试

地理参考答案及评分标准

一、单项选择题（下列各题的四个选项中，只有一项是符合题目要求的，请将符合题目要求的选项前面的字母填在下表内。共 30 小题，每小题 1 分，共 30 分）

题号	1	2	3	4	5	6	7	8	9	10	11	12	13	14	15
答案	A	D	B	A	D	C	B	A	C	B	D	A	A	D	D
题号	16	17	18	19	20	21	22	23	24	25	26	27	28	29	30
答案	C	C	A	C	B	C	C	D	D	B	B	B	A	B	A

二、非选择题（共 6 小题，每小题 5 分，共 30 分）

31.（每空 1 分，共 5 分）

A—③ B—④ C—② D—⑤ E—①

32.（每空 1 分，共 5 分）

(1) 东南 白
(2) 热带草原 热带雨林 咖啡

33.（每空 1 分，共 5 分）

(1) 工业产值 欧
(2) 高原 山地 水能

34.（每空 1 分，共 5 分）

(1) 矿产 黄
(2) 黑 一年一熟 甜菜

35.（每空 1 分，共 5 分）

(1) 二 三
(2) 喀斯特 旅游 低

36.（每空 1 分，共 5 分）

(1) 山谷 自东北流向西南 ②
(2) 3 b